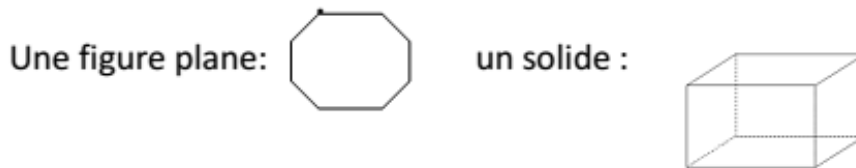


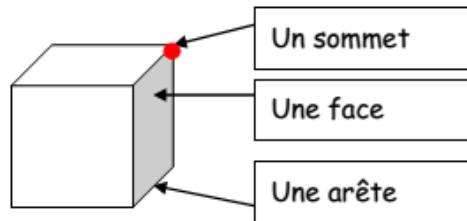


G – Les solides



⇒ Un solide est une forme géométrique qui a un volume.

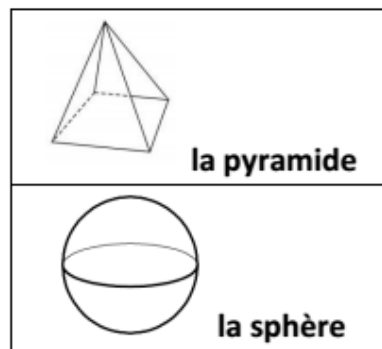
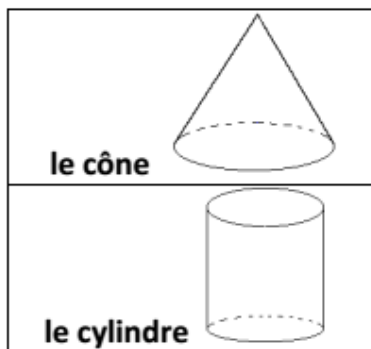


⇒ Je sais reconnaître :



⇒ Les principaux solides sont :

le cube		6 faces carrées 8 sommets 12 arêtes
le pavé		6 faces rectangulaires 8 sommets 12 arêtes



A la maison

Pour t'assurer que tu as bien compris ta leçon, et pour l'apprendre, tu peux essayer de répondre à ces questions et/ou essayer de faire ces activités. Tu peux également demander à un adulte de t'y aider.

Complète :

